

پری اپر پرائمری اسکالرشپ امتحان برائے پنجم جماعت، فروری 2023

--	--	--	--	--	--	--	--	--	--

نشست نمبر

سیٹ



0 2 0 2



پرچہ نمبر : II

وقت : 02:00 سے 03:30

کل نمبرات : 150

میڈیم : اُردو

مضمون : زبان سوم (انگریزی) اور ذہنی آزمائش

کل صفحات : 32

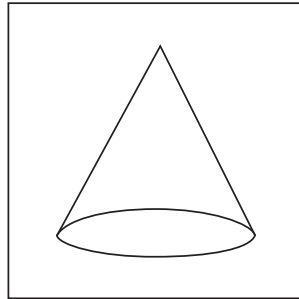
سوالیہ پرچہ حل کرنے سے پہلے دی گئی ہدایات کو غور سے پڑھیے۔

- (1) اس سوالیہ پرچہ کے دو حصے ہیں۔ حصہ "I" میں زبان سوم (انگریزی) کے لیے 1 سے 25 اور حصہ "II" میں ذہنی آزمائش کے لیے 26 سے 75 ایسے کل 75 سوالات ہیں۔ تمام سوالات حل کرنا لازمی ہیں۔
- (2) ہر سوال کے لیے دو (2) نمبرات ہیں۔
- (3) سوالیہ پرچہ حل کرنے کے لیے کل 90 منٹ کا وقت دیا جائے گا۔
- (4) جواب کا اندراج کرنے کے لیے الگ سے جوابی پرچہ دیا گیا ہے۔ ہر سوال نمبر کے سامنے چار متبادلات کے لیے ترتیب وار چار دائرے دیے گئے ہیں۔ اس میں صحیح متبادل والے دائرہ کو دی گئی مثال کے مطابق رنگ بھرنا ہے۔
- مثال : سوال نمبر 6 کے صحیح جواب کا متبادل نمبر 2 ہونے سے اس طرح درج کریں :
- سوال نمبر 6 : ① ● ③ ④
- (5) ذیل کے مطابق درج کیے گئے جوابات قبول نہیں کیے جائیں گے۔
- ① ② ③ ④
- (6) ہر سوال کے جواب کے لیے ایک سے زیادہ رنگے ہوئے دائرے، کانٹ چھاٹ کیے ہوئے جوابات قبول نہیں کیے جائیں گے۔
- (7) ایک مرتبہ درج کیا ہوا جواب تبدیل نہیں کیا جاسکے گا۔
- (8) متبادل دائروں کو بھرتے وقت صرف کالی (سیاہ) یا نیلی بال پین کا استعمال کریں۔ پینسل سے بھرے گئے جوابات ناقابل قبول ہوں گے۔
- (9) سوالیہ پرچہ میں ہر صفحہ کی پگلی جانب اور پرچہ کے آخری صفحے پر پرف کام کے لیے جگہ مہیا کی گئی ہے۔ اسی جگہ پر پرف کام کیا جائے۔
- (10) امتحان کے لیے وقت محدود ہے اس لیے اگر آپ کو کسی سوال کا جواب نہیں آتا ہو تو اگلا سوال حل کریں۔ آخر میں وقت بچنے پر بقیہ سوالات حل کرنے کی کوشش کریں۔
- (11) اگر کسی سوال میں خامی / غلطی ہو تو اس کی پوچھ تاچھ 'سپر وائزر' یا 'سینئر انچارج' سے نہ کریں۔
- (12) سوال میں کوئی خامی / غلطی / اعتراض ہو تو اسکول یا سرپرست اس کی تحریری شکایت B. E. O. یا ایجوکیشن آفیسر کو نہ بھیجتے ہوئے براہ راست متعلقہ اسکول کے Login (لاگ ان) سے آن لائن بھیجیں۔
- (13) خامی / غلطی / اعتراض سے متعلق تحریری شکایت آن لائن روانہ کرنے کی مدت پریکٹس پریکٹس کی ویب سائٹ پر جوابات شائع کرنے کے بعد دس دنوں تک رہے گی۔
- (14) طباعت کی غلطی یا دیگر وجوہات کی وجہ سے اگر سوال میں کوئی غلطی سرزد ہوگی ہو تو ماہرین کی کمیٹی کی آراء کے مطابق مناسب کارروائی کی جائے گی۔
- (15) اردو زبان کے ساتھ انگریزی زبان میں سوالیہ پرچہ دیا گیا ہے۔ اردو زبان کے مشکوک سوالات کے لیے انگریزی زبان میں دیا ہوا سوال دیکھیں۔

SECTION - I

ENGLISH


01. Select the correct option for the following sentence.
February follows _____ in the calendar year.
(1) March (2) December
(3) April (4) January
02. How many mistakes of capitalization are there in the following sentence.
Raju : what ! a girl like smita, working in a shop.
(1) 3 (2) 2
(3) 1 (4) 4
03. Choose the correct alternative.
My number is 20 in the row. So I am _____ in the row.
(1) twenty (2) twentieth
(3) twentieth (4) twenty-first
04. Select the correct alternative to complete the following sentence.
He blinks his _____.
(1) toes (2) ears
(3) nose (4) eyes
05. Identify the shape given in the picture. Choose the correct option.



- (1) Cone (2) Cube
(3) Sphere (4) Triangle

SPACE FOR ROUGH WORK

06. Observe the picture and select the correct alternative.



There is a cow _____ the tree.

- (1) above (2) over
(3) under (4) into

07. Choose the incorrect pair from the given alternative.

- (1) Will not - Won't (2) Shall not - Shalln't
(3) Let us - Let's (4) Have not - Haven't

08. Find the correct alternative for the following sentence.

They _____ garments in the _____.

- (1) sell, sail (2) sale, sail
(3) sell, sale (4) cell, sale

09. Select the correct option for the following sentence.

The sun is always in the _____ direction at 6 p.m.

- (1) East (2) West
(3) North (4) South

SPACE FOR ROUGH WORK

Instructions for Question 10 to 12.

Read the passage carefully and answer the following question.

Mother Duck was really proud of her six new ducklings. They were soft, fluffy and yellow. Such fine little ducklings! But the seventh one was very different. It was bigger and its feathers were gray and shaggy.

10. How many ducklings are mentioned in the passage?

- (1) 6 (2) 8
(3) 5 (4) 7

11. Find the ordinal number mentioned in the passage?

- (1) Six (2) Seventh
(3) One (4) Shaggy

12. Find the opposite of the word 'same' from the passage.

- (1) Fine (2) Shaggy
(3) Different (4) Fluffy

13. Choose the correct alternative to complete the following word chain of alphabetical order.

Pan → Pen → — → Pull

- (1) Part (2) Potter
(3) Punish (4) Push

SPACE FOR ROUGH WORK

14. Choose the correct alternative for the sentence given below.

Please give me _____ one rupee note.

- (1) an (2) the
(3) no article (4) a

15. Observe the picture and choose the correct option for it.



_____ the plants regularly.

- (1) Plough (2) Prune
(3) Weed (4) Water

16. Find the different sound of the letter 'C' from the following alternatives.

- (1) Cart (2) Count
(3) Centre (4) Card

17. Choose the correct alternative.

Yusuf is reading a newspaper. His brother wants to call him for the dinner. He requests _____

- (1) Please keep reading. (2) Excuse me, brother.
(3) Good afternoon brother. (4) You are welcome!

SPACE FOR ROUGH WORK

18. Find the correct word to complete the message given below.

_____ PLANTS NOT GARBAGE

S	G	Z	T
E	R	O	C
W	O	Y	U
E	W	X	T

- (1) SEW (2) CUT
(3) GROW (4) ROOTS

19. Find the sentence with the incorrect punctuation mark.

- (1) How are you! (2) How nice!
(3) What a surprise! (4) Are you crazy?

20. Select the proper option to complete the word register.

growl, cluck, buzz, squeal, _____.

- (1) blow (2) share
(3) croak (4) flow

21. Select the correct alternative.

He _____ a letter yesterday.

- (1) writes (2) wrote
(3) write (4) writing

SPACE FOR ROUGH WORK

22. Ruby meets her friend at the lunch time. How will she greet him? Choose the correct option.

- (1) Good evening. (2) Good night.
(3) Good morning. (4) Good afternoon.

23. Find the punctuation mark missing in the following sentence.

He said, "Its just a matter of practice!"

- (1) Comma (2) Exclamation mark
(3) Apostrophe (4) Full stop

24. Observe the picture and choose the correct alternative.



What is the girl doing?

- (1) Sweeping (2) Cooking
(3) Climbing (4) Singing

25. Read the riddle given below and choose the correct option.

You open your mouth to do it.

It shows you are sleepy. What is it?

- (1) Cough (2) Yawn
(3) Sneeze (4) Dream

SPACE FOR ROUGH WORK

SECTION - II

INTELLIGENCE TEST

Q.26. to Q.30. Directions :

In the given questions first term has a specific relation with the second term. The same relation exists between third and fourth term. Identify the relation and select the correct option to replace the question mark.

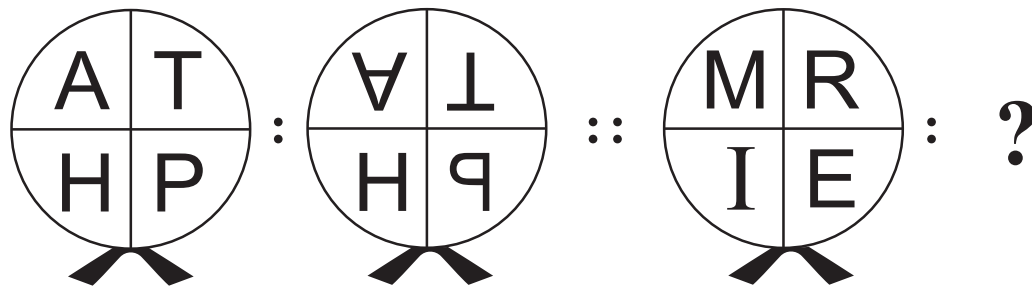
26. Karamveer : Bhaurao Patil :: ? : Birasa Munda

- (1) Lokmanya (2) Maharshi
(3) Senanayak (4) Jananayak

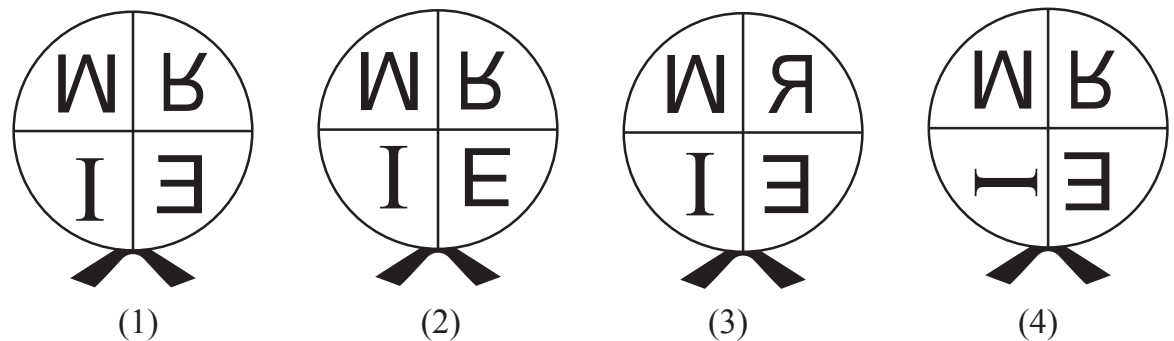
27. Cow : Moo :: Monkey : ?

- (1) Hoot (2) Hiss
(3) Chatter (4) Scream

28. Question Figures :



Answer Figures :



SPACE FOR ROUGH WORK

SECTION - II

ذہانت ٹیسٹ

سوال نمبر 26 سے 30 کے لیے ہدایت :

درج ذیل سوالات میں پہلے اور دوسرے رکن میں جو تعلق ہے بالکل ویسا ہی تعلق تیسرے اور چوتھے رکن میں ہے۔ اسے تلاش کیجئے اور سوالیہ نشان کی جگہ آنے والے جواب کو دیئے گئے متبادلات میں سے تلاش کر کے دائرے میں رنگ بھریئے۔

26. کرم ویر : بھاؤ راؤ پاٹل :: ؟ : بال گنگا دھر تلک

- (1) پنامہ
(2) پنڈت
(3) گرو دیو
(4) لوک مانیہ

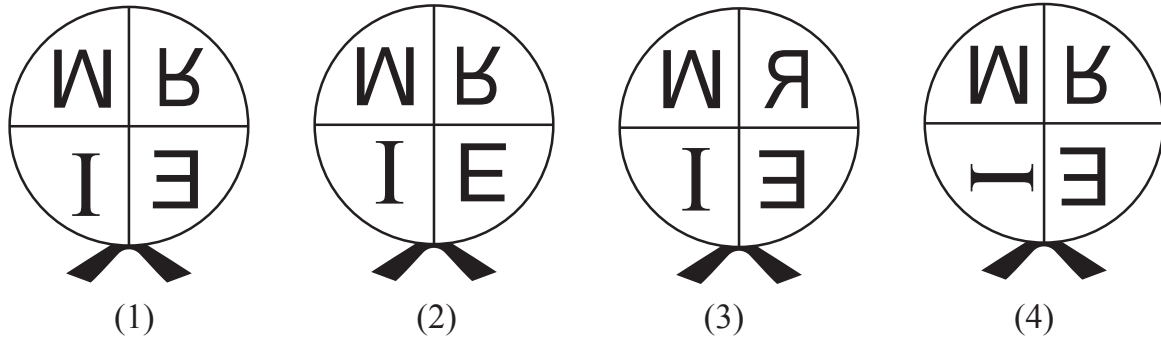
27. گائے : رمھانا :: بندر : ؟

- (1) ٹڑٹانا
(2) کڑکنا
(3) خوخیانا
(4) چٹ چٹ کرنا

28. سوالیہ شکلیں :



جوابی اشکال :



رف کام کے لیے خالی جگہ

A	B	C	D	E	F	G	H	I	J	K	L	M	N	O	P	Q	R	S	T	U	V	W	X	Y
---	---	---	---	---	---	---	---	---	---	---	---	---	---	---	---	---	---	---	---	---	---	---	---	---

29. $42 : 10 :: 93 : ?$

- (1) 71 (2) 24
(3) 28 (4) 33


30. $8 : 64 :: 5 : ?$

- (1) 61 (2) 26
(3) 48 (4) 125

Q.31. and Q.32. Direction:

Select the figure which exactly matches with the question figure from the four alternative figures given below.


31. **Question Figure:**



Answer Figures:




(1)



(2)




(3)




(4)


32. **Question Figure:**




Answer Figures:




(1)



(2)



(3)



(4)

33. If Red, Yellow, Blue, Green and Pink coloured buntings are stuck in the same order repeatedly, then at which position will be the Yellow bunting get stuck?

- (1) 63 (2) 87
(3) 39 (4) 78

SPACE FOR ROUGH WORK

A	B	C	D	E	F	G	H	I	J	K	L	M	N	O	P	Q	R	S	T	U	V	W	X	Y
---	---	---	---	---	---	---	---	---	---	---	---	---	---	---	---	---	---	---	---	---	---	---	---	---

42 : 10 :: 93 : ? 29.

24 (2)

71 (1)

33 (4)

28 (3)

8 : 64 :: 5 : ? 30.

26 (2)

61 (1)

125 (4)

48 (3)

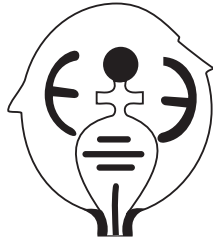
سوال نمبر 31 اور 32 کے لیے ہدایت :

ذیل کی سوالیہ شکل سے ہو بہو ملنے والی شکل جو ابی اشکال کے متبادلات میں سے تلاش کیجیے۔


سوالیہ شکل :

جو ابی شکلیں :

31.



(1)



(2)



(3)




(4)

سوالیہ شکل :

جو ابی شکلیں :


32.




(1)



(2)



(3)



(4)

33. لال، پیلا، نیلا، ہرا اور گلابی ان رنگوں کے فرارے اسی ترتیب سے لگانے پر پیلے رنگ کا فرار ادرج ذیل میں سے کونسے نمبر پر آئے گا؟

87 (2)

63 (1)

78 (4)

39 (3)

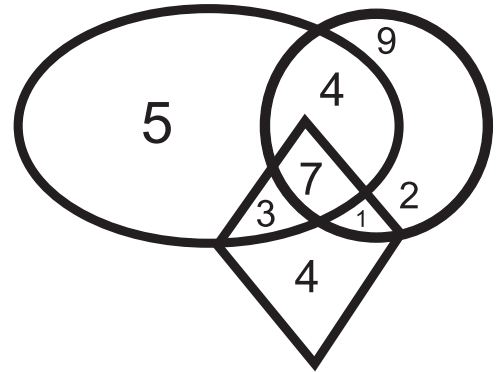
رف کام کے لیے خالی جگہ

A	B	C	D	E	F	G	H	I	J	K	L	M	N	O	P	Q	R	S	T	U	V	W	X	Y
---	---	---	---	---	---	---	---	---	---	---	---	---	---	---	---	---	---	---	---	---	---	---	---	---

34. In a row Rajendra is standing in the middle of the row. His position is 23rd in the row. If in the same row Vishwas is standing at 25th position from left side then which of the following alternatives is his position from the right side in the row?
- (1) 21st (2) 20th
(3) 22nd (4) 45th
35. When Rajnandini was returning to home from school, Sun was setting towards her left side. In the same position she turned to her right side at the right angle. Then to which direction will her right hand point?
- (1) North (2) South
(3) East (4) West
36. If Sonal's 3rd birthday was on 19th September 2004, which was Thursday, then on which day will her 12th birthday occur?
- (1) Monday (2) Sunday
(3) Saturday (4) Wednesday
37. In the year 2020, Republic Day was celebrated on Saturday, then in the same month which day will occur only four times?
- (1) Wednesday (2) Friday
(3) Thursday (4) Tuesday

38. Observe the given Venn diagram and choose the correct answer.

What is the sum of numbers which are only in one figure?



- (1) 18
(2) 16
(3) 11
(4) 20

SPACE FOR ROUGH WORK

A	B	C	D	E	F	G	H	I	J	K	L	M	N	O	P	Q	R	S	T	U	V	W	X	Y
---	---	---	---	---	---	---	---	---	---	---	---	---	---	---	---	---	---	---	---	---	---	---	---	---

34. ایک قطار میں عثمان وسط میں کھڑا ہے۔ اس کا نمبر 23 واں ہے۔ اسی قطار میں بائیں جانب سے 25 ویں نمبر پر کھڑے زید کا دائیں جانب سے کتنا نمبر ہوگا؟

(1) 21 واں

(2) 20 واں

(3) 22 واں

(4) 45 واں

35. اسکول سے گھر جاتے وقت علی کے بائیں جانب غروب آفتاب ہو رہا تھا، اس حالت میں علی ایک مرتبہ زاویہ قائمہ بناتا ہوا دائیں جانب مڑا تو اس کا داہنا ہاتھ کونسی سمت ہوگا؟

(1) شمال

(2) جنوب

(3) مشرق

(4) مغرب

36. مبشرہ کی تیسری سالگرہ 19 ستمبر 2004 بروز جمعرات کو ہوئی تو اس کی 12 ویں سالگرہ کونسے دن آئے گی؟

(1) پیر

(2) اتوار

(3) سنیچر

(4) بدھ

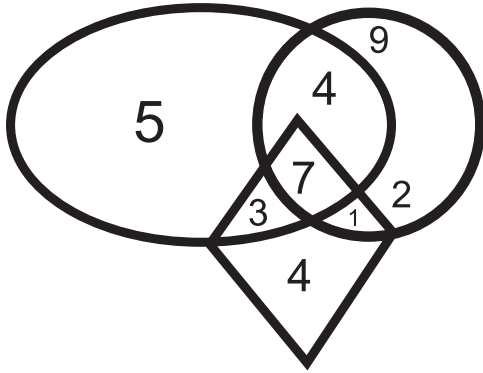
37. 2020 کا یومِ جمہوریہ سنیچر کو منایا گیا تو ذیل میں سے اس مہینے کا کونسا دن صرف چار مرتبہ آئے گا؟

(1) بدھ

(2) جمعہ

(3) جمعرات

(4) منگل



38. ذیل کے وین خاکے کا مشاہدہ کر کے جواب منتخب کیجیے۔

صرف ایک ہی شکل میں موجود ہندسوں کا مجموعہ کتنا ہے؟

(1) 18

(2) 16

(3) 11

(4) 20

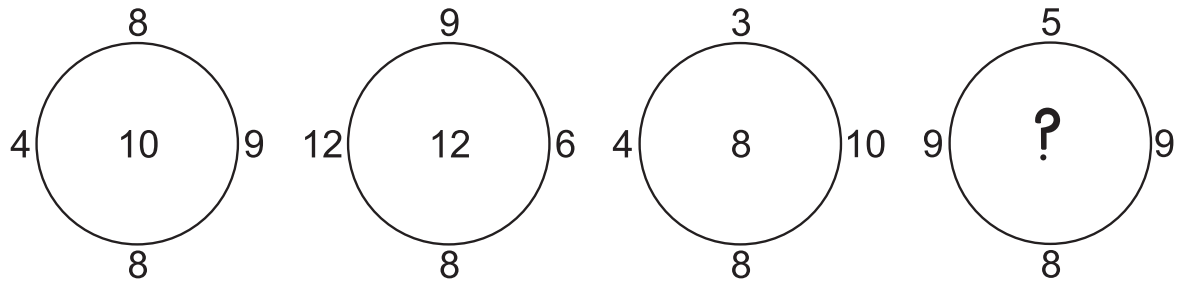
رف کام کے لیے خالی جگہ

39. In the given square pattern select the correct option to replace the question mark.

2	36	4
5	76	?
1	172	7

- (1) 6
- (2) 3
- (3) 9
- (4) 2

40. Observe the pattern in the following circles and find the correct answer to replace the question mark, from the given alternatives.



- (1) 11
- (2) 13
- (3) 7
- (4) 14

Q.41. to Q.45. Directions :

A set of terms is given at the beginning of the question. These terms have some common characteristic. Find out the term from the alternatives that matches the given set of terms.

41. Stable, Coop, Cowshed.

- (1) Web
- (2) Beehive
- (3) Cage
- (4) Anthill

42. September, April, June

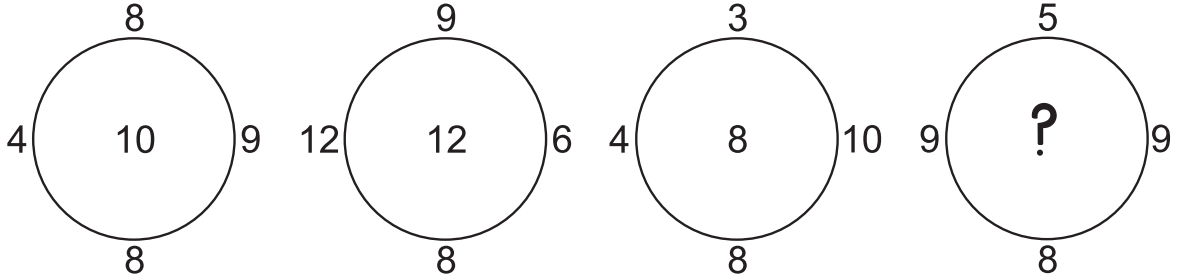
- (1) January
- (2) December
- (3) March
- (4) November

SPACE FOR ROUGH WORK

39. ذیل کے چوکون میں سوالیہ نشان کی جگہ کونسا ہندسہ آئے گا؟

2	36	4	6 (1)
5	76	?	3 (2)
1	172	7	9 (3)
			2 (4)

40. ذیل کے دائروں کا مشاہدہ کیجیے اور سوالیہ نشان کی جگہ کونسا عدد آئے گا وہ متبادل میں سے انتخاب کیجیے۔



13 (2)

14 (4)

11 (1)

7 (3)

سوال نمبر 41 سے 45 کے لیے ہدایت :

درج ذیل سوالات میں یکساں خصوصیات کی بناء پر ارکان کے گروہ بنائے گئے ہیں۔ دیے ہوئے گروہ سے تعلق رکھنے والا رکن متبادلات میں سے منتخب کیجیے۔

41. گوٹھا ، ڈربہ ، طویلہ

چھتا (2)

بانہی (4)

جالے (1)

اصطبل (3)

42. ستمبر ، اپریل ، جون

دسمبر (2)

نومبر (4)

جنوری (1)

مارچ (3)

رف کام کے لیے خالی جگہ

A	B	C	D	E	F	G	H	I	J	K	L	M	N	O	P	Q	R	S	T	U	V	W	X	Y
---	---	---	---	---	---	---	---	---	---	---	---	---	---	---	---	---	---	---	---	---	---	---	---	---


43. 4205, 6427, 8729

- (1) 5407 (2) 3217
(3) 3249 (4) 6245

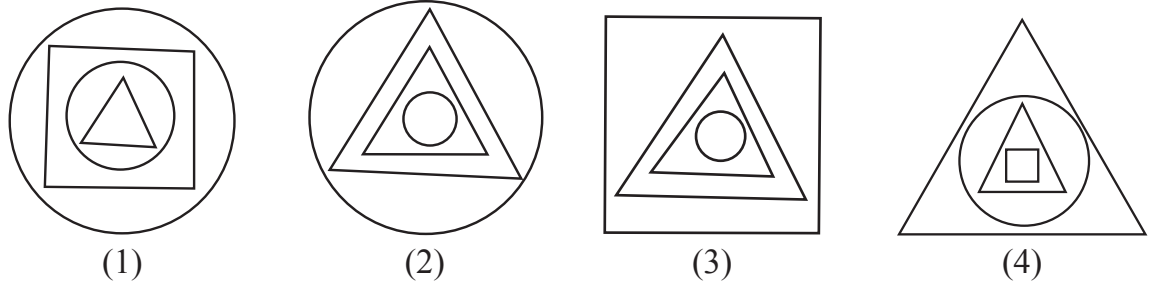
44. (512, 64), (216, 36), (27, 9)

- (1) (1, 1) (2) (16, 4)
(3) (353, 49) (4) (225, 25)

45. Question Figures :



Answer Figures :



46. In a certain code language 'COT' is written as 357, 'TOP' is written as 513, 'TAP' is written as 431 then how to write 'COAT' in the same language. (Letters and numerals are not in order.)

- (1) 1743 (2) 7543
(3) 1574 (4) 1375

47. In a certain code language 35 : 345, 48 : 4168 and 29 : 2499 then in the same code language 58 = ?

- (1) 538 (2) 5138
(3) 5258 (4) 598

SPACE FOR ROUGH WORK

A	B	C	D	E	F	G	H	I	J	K	L	M	N	O	P	Q	R	S	T	U	V	W	X	Y
---	---	---	---	---	---	---	---	---	---	---	---	---	---	---	---	---	---	---	---	---	---	---	---	---

4205, 6427, 8729 43.

3217 (2)

5407 (1)

6245 (4)

3249 (3)

(512, 64) , (216, 36) , (27, 9) 44.

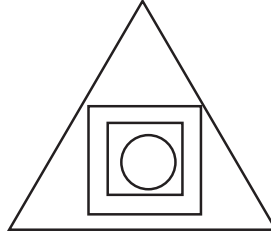


(16, 4) (2)

(1, 1) (1)

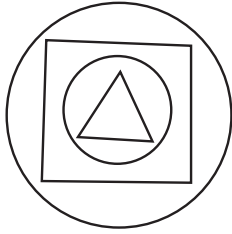
(225, 25) (4)

(353, 49) (3)


سوالیہ شکلیں : 45.




جوابی اشکال :



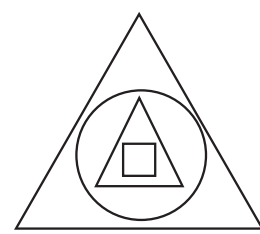
(1)



(2)



(3)



(4)

46. ایک اشاراتی زبان میں 'ورق' اس لفظ کو 'ورفرق'، 'گلاب' اس لفظ کو 'گر فلاب' اور 'پیلا' اس لفظ کو 'پرفیلا' اس طرح لکھتے ہیں، تو اسی زبان میں 'ودھان' اس لفظ کو کیسے لکھیں گے؟

(1) ورفیدھان

(2) ورفدھان

(3) ورفدھان

(4) ورفدان

47. ایک اشاراتی زبان میں 35 = 345، 48 = 4168، 29 = 2499 ایسے لکھتے ہیں، تو اسی زبان میں 58 = ؟

(1) 538

(2) 5138










(3) 5258

(4) 598








رف کام کے لیے خالی جگہ

A	B	C	D	E	F	G	H	I	J	K	L	M	N	O	P	Q	R	S	T	U	V	W	X	Y
---	---	---	---	---	---	---	---	---	---	---	---	---	---	---	---	---	---	---	---	---	---	---	---	---

Q.48. and Q.49. Direction :

Symbol	  	  	  
Code	5 2 6	6 8 9	3 9 2

In the above frame the sequence of symbols and digits may not necessarily be the same. Observe the code in the above frame and answer the questions.

48. In the above code language which digits will represent the symbol   
- (1) 852 (2) 956
(3) 952 (4) 928
49. $\text{⊕} + \text{⊞} \times \text{●} - \text{★} = ?$
- (1)  (2) 
(3)  (4) 
50. While climbing the ramp near the school gate your physically disabled friend slipped off. What will you do at this moment?
- (1) I will inform the Head-master of my school immediately.
(2) I will ignore him and go into the class.
(3) I will laugh at him by seeing him in this embarrassing situation.
(4) I will support him and help him to go to the classroom.
51. You and your school friends go for a school picnic at Raigad fort. Which of the below mentioned student's action is correct?
- (1) Pranjal stands on the surrounding wall of the fort and clicks selfie.
(2) Suyash has thrown the empty water bottle on the fort.
(3) Manasi climbed up and came down the fort carefully.
(4) Ayub has beautifully written school's name on the wall of the fort.

SPACE FOR ROUGH WORK

سوال نمبر 48 اور 49 کے لیے ہدایت :

علامات	⊕ ⊗ △	⊕ ★ *	★ ● ⊕
اشاراتی صورت	5 2 6	6 8 9	3 9 2

مندرجہ بالا جدول میں علامتیں اور اعداد کی ترتیب یکساں ہو ایسا نہیں ہے۔ اس بات کو مد نظر رکھ کر جوابات متبادلات میں سے منتخب کیجیے۔

48. مندرجہ بالا اشاراتی زبان میں ⊕ △ ★ ان علامتوں کے لئے کونسے ہندسے آئیں گے؟

- (1) 852
(2) 956
(3) 952
(4) 928

49. کتنا = ★ - ● × ⊕ + ⊕

- (1) ⊕
(2) ●
(3) ⊕
(4) *

50. اسکول کے صدر دروازے کے قریب آپ کا معذور دوست ریپ (معذوروں کے لئے چڑھنے اترنے کا راستہ) پر چڑھتے وقت پھسل کر نیچے گر پڑا، تو اس کو دیکھ کر آپ کیا کریں گے؟

- (1) دوڑ کر جا کر صدر مدرس کو اطلاع دیں گے۔
(2) اس کی طرف نظر انداز کر کے جماعت میں چلے جائیں گے۔
(3) معذور دوست کی تذلیل ہوئی ایسے سمجھ کر خوب ہنسیں گے۔
(4) معذور دوست کو سہارا دے کر اس کو جماعت تک پہنچائیں گے۔

51. رائے گڑھ دیکھنے کے لیے ایک مدرسہ کی سیر منعقد کی گئی تھی۔ ذیل میں سے کونسے طالب علم کا عمل آپ کو مناسب لگتا ہے؟

- (1) قلعہ کی اوپری چوٹی کی منڈیر پر چڑھ کر عالیہ سیلفی (فوٹو) نکالتی ہے۔
(2) احمد نے پانی کی خالی بوتل قلعے پر ہی پھینک دی۔
(3) سعدیہ قلعے پر آہستہ سے چڑھی اور آہستہ سے اتر گئی۔
(4) ایوب نے قلعے کی دیوار پر خوبصورت الفاظ میں اسکول کا نام لکھا۔

رف کام کے لیے خالی جگہ

A	B	C	D	E	F	G	H	I	J	K	L	M	N	O	P	Q	R	S	T	U	V	W	X	Y
---	---	---	---	---	---	---	---	---	---	---	---	---	---	---	---	---	---	---	---	---	---	---	---	---

52. In the following sentence how many seven letter words are more or less than five letter words?

‘Shivaji Maharaj is a great Maratha King.’

- (1) More by 1 (2) Less by 1
(3) More by 2 (4) Less by 2

53. Prepare a meaningful word from the letters, ‘B, E, N, T, I, O, D, E’. Which letter will be at the third place from the right side of the meaningful word.

- (1) B (2) I
(3) O (4) E

54. In the given number series how many times is the sum of two adjacent digits is a ‘Prime Number’.

7, 8, 9, 2, 0, 1, 3, 5, 6, 8, 1, 1, 1, 2, 5

- (1) 9 (2) 8
(3) 7 (4) 10

55. ABCDE FGHIJ KLMNO PQRST UVWXY

In the given alphabetical series, which pair of letters from the following options is not at equal distance from the 14th letter from the right side in the alphabet series?

- (1) GU (2) FR
(3) BV (4) IO

SPACE FOR ROUGH WORK

A	B	C	D	E	F	G	H	I	J	K	L	M	N	O	P	Q	R	S	T	U	V	W	X	Y
---	---	---	---	---	---	---	---	---	---	---	---	---	---	---	---	---	---	---	---	---	---	---	---	---

52. حاتم کی سخاوت، مہمان نوازی اور دردمندی کے قصے آج بھی مشہور ہیں۔ وہ ضرورت مندوں اور غریبوں کا ہمدرد اور مددگار تھا۔ اوپر دیے گئے جملوں میں مرکب الفاظ کی کتنی جوڑیاں ہیں؟

- 7 (2) 8 (1)
6 (4) 5 (3)

53. اڑ رہی تھی ایک مٹھی شہد کی باغ میں جانے کو وہ بے چین تھی۔

مندرجہ بالا شعر میں دو حرفی الفاظ سے کتنے کم یا زیادہ ہیں؟

- (1) 2 سے زیادہ (2) 4 سے زیادہ
(3) 4 سے کم (4) 2 سے کم

54. درج ذیل عددی سلسلے میں متواتر اعداد کا مجموعہ مفرد عدد ہے، ایسا کتنی مرتبہ ہوا ہے؟

7, 8, 9, 2, 0, 1, 3, 5, 6, 8, 1, 1, 1, 2, 5

- 8 (2) 9 (1)
10 (4) 7 (3)

ABCDE FGHIJ KLMNO PQRST UVWXY

55.

مندرجہ بالا انگریزی حروفی سلسلے میں دائیں جانب سے 14 ویں نمبر کے حرف سے یکساں فاصلے پر کونسے حروف کی جوڑی نہیں

ہے پہچانیے۔

- FR (2) GU (1)
IO (4) BV (3)

رف کام کے لیے خالی جگہ

Q.56. to Q.60. Directions:

Select the odd term.

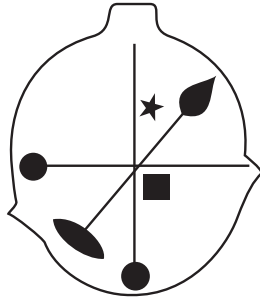
56. (1) Cow - Bull

(2) Father - Mother

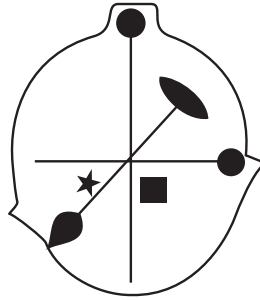
(3) Peacock - Hen

(4) Groom - Bride

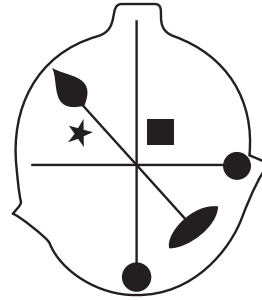
57.



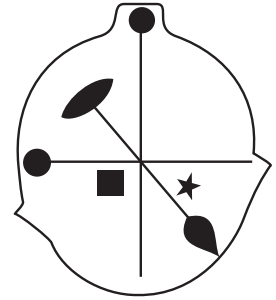
(1)



(2)

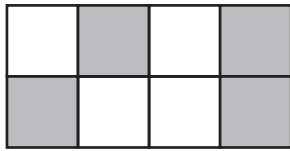


(3)

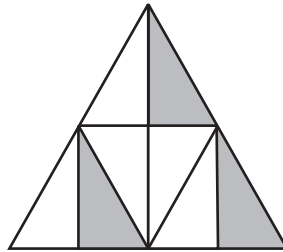


(4)

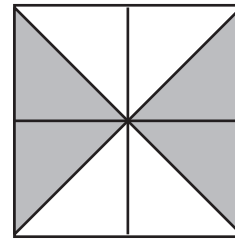
58.



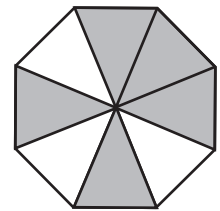
(1)



(2)



(3)



(4)

59. (1) 5668

(2) 3932

(3) 6978

(4) 6592

60. (1) 644

(2) 944

(3) 477

(4) 955

SPACE FOR ROUGH WORK

سوال نمبر 56 سے 60 کے لیے ہدایت :

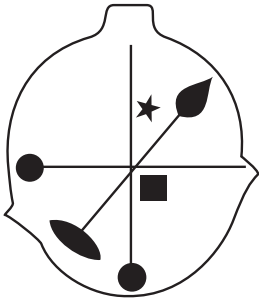
گروپ میں شامل نہ ہونے والے رکن کو تلاش کر کے اس کے متبادل جوابی نمبر کے دائرے میں رنگ بھریئے۔

(2) والد - والدہ

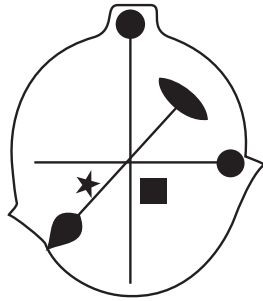
56. (1) اونٹ - اونٹنی

(4) ڈلہا - ڈلہن

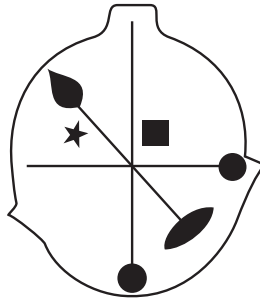
(3) نوکر - نوکری



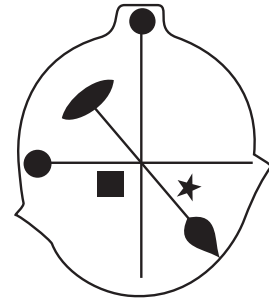
(1)



(2)




(3)

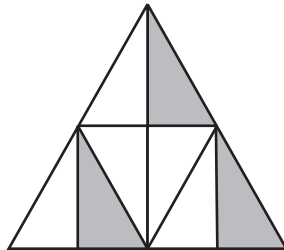


(4)

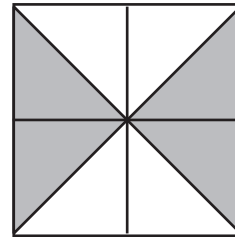
57.



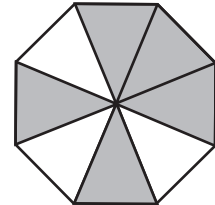
(1)



(2)



(3)



(4)

58.

3932 (2)

5668 (1) 59.

6592 (4)

6978 (3)

944 (2)

644 (1) 60.

955 (4)

477 (3)

رف کام کے لیے خالی جگہ

Q.61. and Q.62. Direction :

Consider the pattern in the given number series and select the correct option to replace the question mark.

61. 196, 144, 100, 64, ?

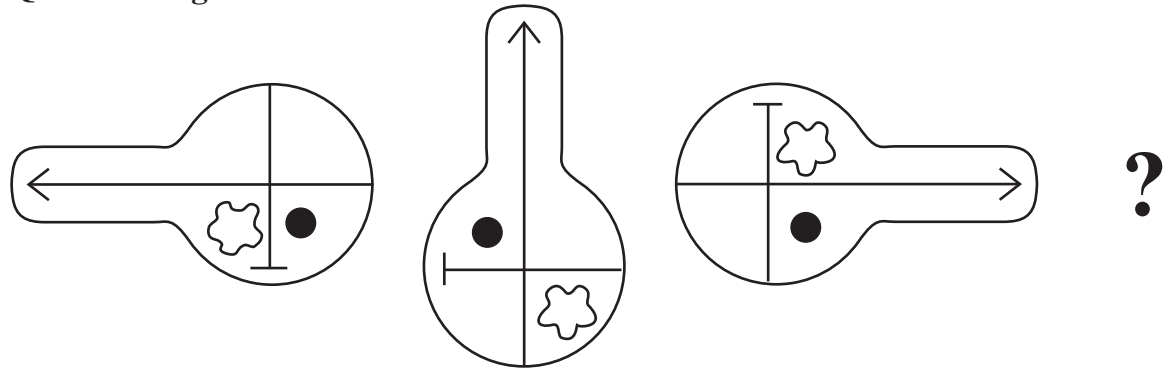
- | | |
|--------|--------|
| (1) 49 | (2) 16 |
| (3) 36 | (4) 56 |

62. 7, 8, 11, 17, 27, 42, ?

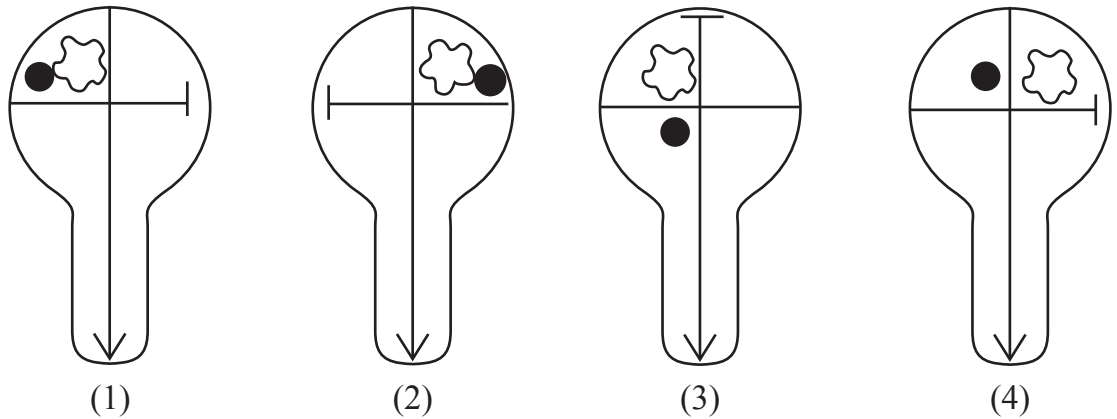
- | | |
|--------|--------|
| (1) 69 | (2) 63 |
| (3) 59 | (4) 62 |

63. Select the correct figure from the options to replace the question mark.

Question Figures :



Answer Figures :



SPACE FOR ROUGH WORK

سوال نمبر 61 اور 62 کے لیے ہدایت :

عددی سلسلے میں اعداد کی ترتیب کے ضابطے کو مد نظر رکھ کر سوالیہ نشان کی جگہ آنے والا عدد متبادل میں سے منتخب کیجئے۔

196, 144, 100, 64, ? 61.

16 (2)

49 (1)

56 (4)

36 (3)

7, 8, 11, 17, 27, 42, ? 62.

63 (2)

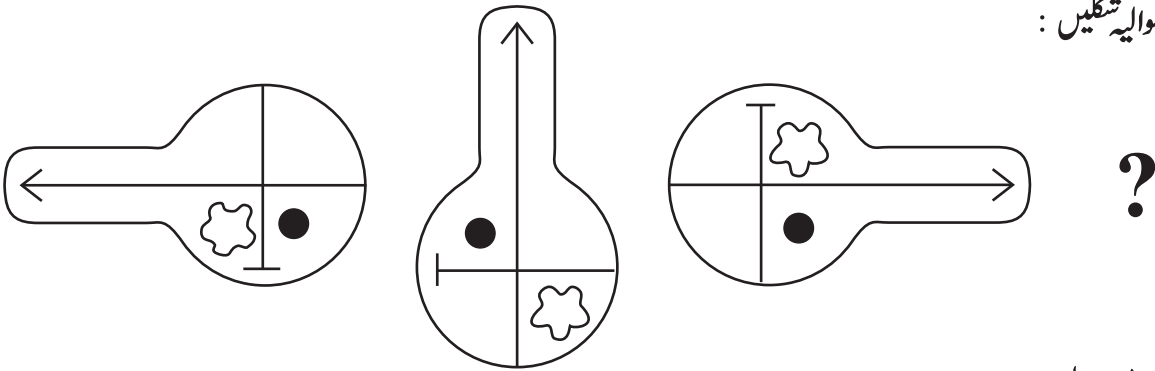
69 (1)

62 (4)

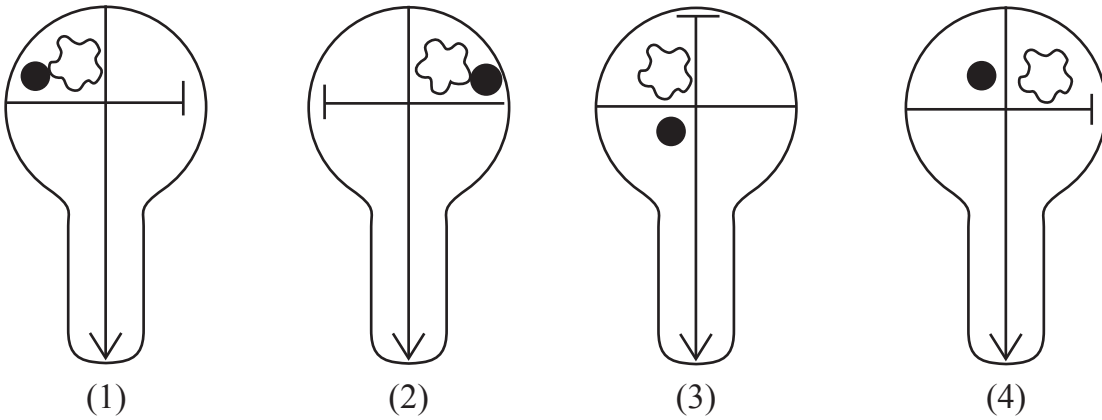
59 (3)

63. سوالیہ نشان کی جگہ آنے والی شکل کونسی ہے؟

سوالیہ شکلیں :



جوابی اشکال :



رف کام کے لیے خالی جگہ

64. In the given series of symbols select the correct group from the options to replace the question mark.



65. Select the wrong term in the given number series.

16, 22, 26, 39, 62, 74, 102

(1) 74

(2) 62

(3) 39

(4) 26

66. Seven years ago sum of ages of Kavita, Manisha and Suvarna was 45 years, then what will be the sum of their ages 5 years hence?

(1) 81

(2) 50

(3) 57

(4) 59

67. Pratik likes to play Kabaddi and Kho-Kho. Palak likes to play only Langadi. Vedant likes to play all sports. Pranjal likes to play Langadi and Chess and Roger likes to play all sports except Kabaddi, then from the options find who likes to play Kho-Kho?

(1) Pratik and Vedant

(2) Pratik, Pranjal and Roger

(3) Vedant, Roger and Palak

(4) Vedant, Pratik and Roger

68. If Honeybee is called Ant, Ant is called Cobra, Cobra is called Sparrow and Sparrow is called Hen, then who will live in the anthill?

(1) Cobra

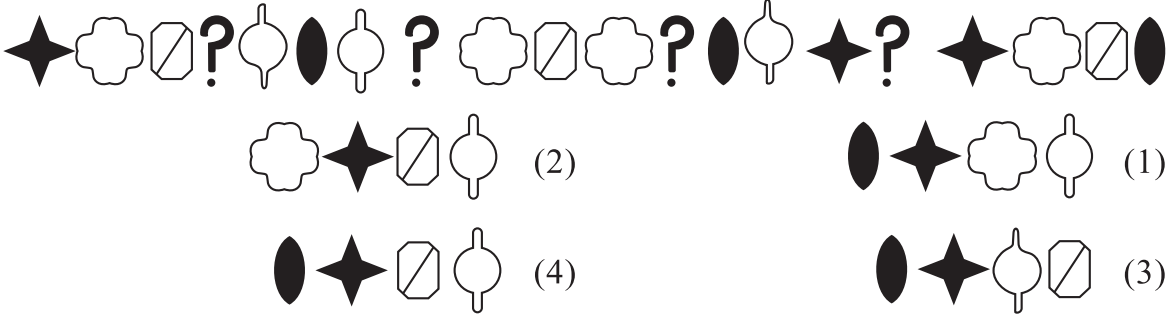
(2) Ant

(3) Hen

(4) Honeybee

SPACE FOR ROUGH WORK

64. ذیل کے علامتی سلسلے میں سوالیہ نشان کی جگہ آنے والا علامتوں کا گروہ تلاش کیجیے۔



65. ذیل کے عددی سلسلے میں غلط رکن پہچانیے۔

16, 22, 26, 39, 62, 74, 102

62 (2)

74 (1)

26 (4)

39 (3)

66. 7 سال قبل فردوس، سعدیہ اور کوثر ان کی عمروں کا مجموعہ 45 سال ہو تو 5 سال بعد ان کی عمروں کا مجموعہ کتنے سال ہوگا؟

50 (2)

81 (1)

59 (4)

57 (3)

67. حمزہ کو کبڈی اور کھوکھو کھیل پسند ہیں۔ فلک کو صرف لنگڑی یہ کھیل پسند ہے۔ ابوبکر کو سب کھیل پسند ہیں۔ کشف کو لنگڑی اور شطرنج یہ کھیل پسند ہیں اور کیف کو کبڈی یہ کھیل چھوڑ کر سب کھیل پسند ہیں۔ تو کھوکھو کھیل پسند کرنے والے کون کون ہیں؟ ذیل میں سے منتخب کیجیے۔

(1) حمزہ اور ابوبکر

(2) حمزہ، کشف اور کیف

(3) ابوبکر، کیف اور فلک

(4) ابوبکر، حمزہ اور کیف

68. شہد کی مکھی کو چیونٹی، چیونٹی کو ناگ، ناگ کو چڑیا اور چڑیا کو مرغی کہا جائے تو بانہی میں کون رہے گا؟

(1) ناگ

(2) چیونٹی

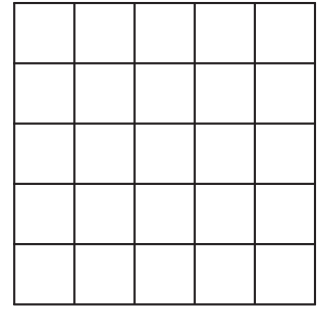
(3) مرغی

(4) شہد کی مکھی

رف کام کے لیے خالی جگہ

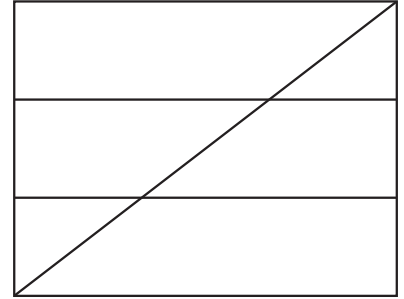
69. In the adjacent figure, how many squares are there?

- (1) 225
- (2) 55
- (3) 25
- (4) 75



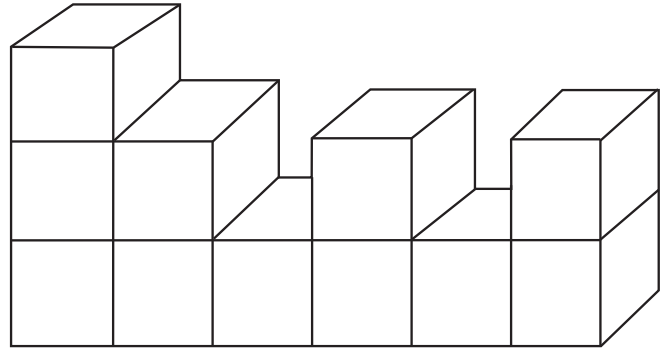
70. In the adjacent figure, how many quadrilaterals are there?

- (1) 10
- (2) 14
- (3) 12
- (4) 8




71. How many surfaces does the given figure have?


- (1) 66
- (2) 22
- (3) 17
- (4) 16




72. Which group of digits will look as it is in the mirror image. Select the correct alternative from the following alternatives.




(1)



(2)

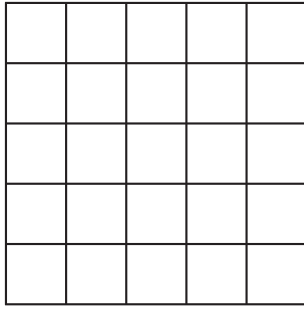


(3)



(4)

SPACE FOR ROUGH WORK



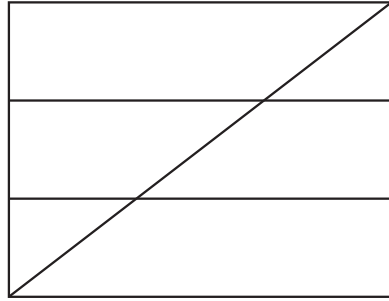
69. بازو کی شکل میں مربعوں کی تعداد کتنی ہے؟

225 (1)

55 (2)

25 (3)

75 (4)



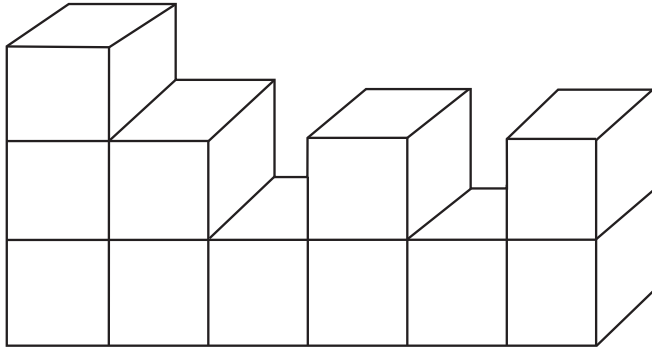
70. بازو کی شکل میں چوکونوں کی تعداد کتنی ہے؟

10 (1)

14 (2)

12 (3)

8 (4)



71. مندرجہ ذیل شکل میں کل کتنی سطحیں ہیں؟


66 (1)

22 (2)


17 (3)

16 (4)


72. مندرجہ ذیل میں سے کون سے متبادل کے عدد کے گروہ کا آئینے میں عکس ویسا ہی دکھائی دے گا؟




(1)



(2)



(3)

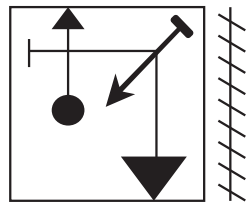


(4)

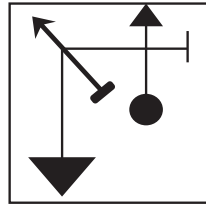
رف کام کے لیے خالی جگہ

73. Identify the mirror image of the question figure and select the correct alternative.

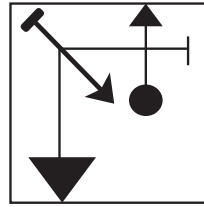
Question Figure:



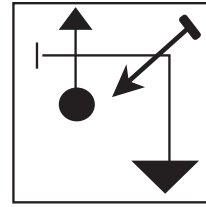
Answer Figures:



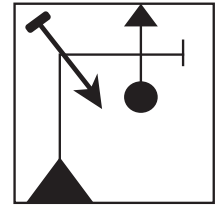
(1)



(2)



(3)




(4)

Q.74. and Q.75. Direction:

Select the correct figure that is water image of the question figure from the alternatives.

74. **Question Figure:**



Answer Figures:



(1)



(2)

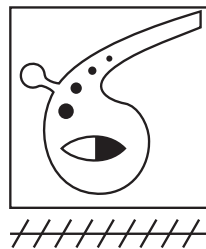


(3)

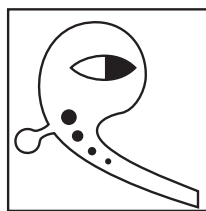


(4)

75. **Question Figure:**




Answer Figures:



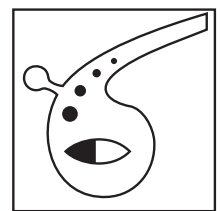
(1)



(2)



(3)



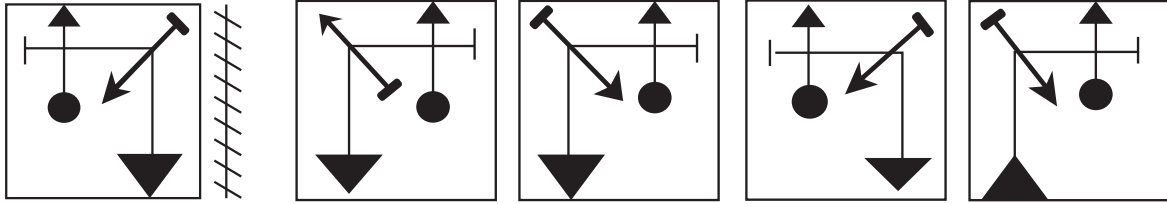
(4)

SPACE FOR ROUGH WORK

73. درج ذیل کی سوالیہ شکل کا عکس آئینے میں کیسا نظر آئے گا۔ جواب متبادلات میں دی گئی اشکال سے منتخب کر کے اس کا دائرہ بھریئے۔

سوالیہ شکل :

جوابی شکلیں :



(1)

(2)

(3)

(4)

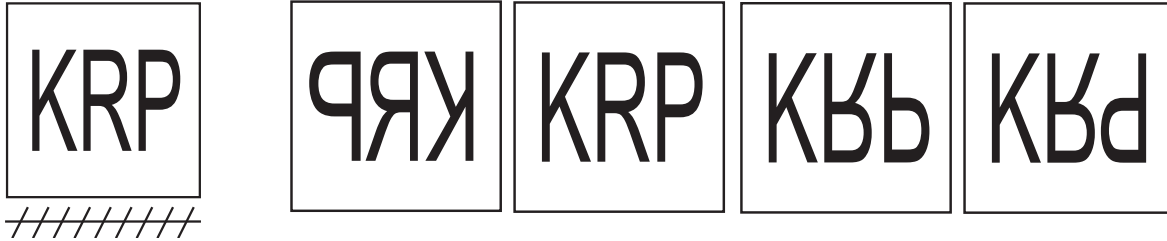
سوال نمبر 74 اور 75 کے لیے ہدایت :

درج ذیل سوالیہ شکل کا عکس پانی میں کیسا نظر آئے گا۔ جوابی اشکال سے متبادل منتخب کر کے دائرہ بھریئے۔

سوالیہ شکل :

جوابی شکلیں :

74.



(1)

(2)

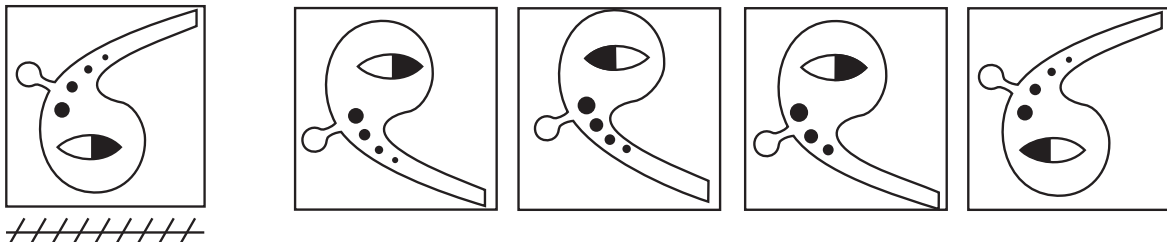
(3)

(4)

سوالیہ شکل :

جوابی شکلیں :

75.



(1)

(2)

(3)

(4)

رف کام کے لیے خالی جگہ

رف کام کے لیے خالی جگہ